
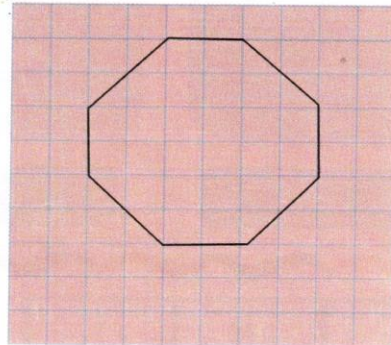


الموضوع الحادي عشر







1 أعد رسَم الشَّكْلِ مُكَبَّرًا بِضِعْفِ
أَطْوَالِهِ إِبْتِدَاءً مِنَ النُّقْطَةِ السَّوْدَاءِ



2 لَأَحِظِ الأشْكَالَ ثُمَّ أَكْمِلِ الخَانَاتِ

بِمَا يُنَاسِبُ كُلِّ شَكْلِ

| عدد الرؤوس | عدد الأحرُف | عدد الأوجه | |
|------------|-------------|------------|---|
| | | | مُكَبَّبٌ  |
| | | | هَرَمٌ  |
| | | | أُسْطُوَانَةٌ  |
| | | | مُتَوَازِي مُسْتَطِيلَاتٍ  |

3 تتألَّفُ مَدْرَسَةٌ صَغِيرَةٌ مِنْ 5 أَقْسَامٍ فِي كُلِّ قِسْمٍ 28 تَلْمِيذًا .

مَا عَدَدُ تَلَامِيذِ الْمَدْرَسَةِ؟

الجواب

$$\dots \times \dots = \dots$$

عَدَدُ تَلَامِيذِ الْمَدْرَسَةِ

